

ÍNDEX PÀGINA

LES UNITATS.....	1
LES DESENES.....	31
EL TEMPS.....	60
ELS EUROS.....	67
PROBLEMES.....	71
GEOMETRIA.....	75
SÈRIES.....	79

1

QUANTS PALS HI HA?

DATA:	
I	
II	
III	
IIII	
IIIII	

TOTAL ENCERTS

2

QUANTS PALS HI HA?

DATA:	

TOTAL ENCERTS

3

QUANTS PALS HI HA?

DATA:	

TOTAL ENCERTS

4






QUANTS PALS HI HA?

DATA:	

TOTAL ENCERTS

5






COMPTA ELS PUNTS NEGRES

DATA:	
	
	
	
	
	

TOTAL ENCERTS

6






COMPTA ELS PUNTS NEGRES

DATA:	
	
	
	
	
	

TOTAL ENCERTS

7






COMPTA ELS PUNTS NEGRES

DATA:	
	
	
	
	
	

TOTAL ENCERTS

8








COMPTA ELS PUNTS NEGRES

DATA:	
	
	
	
	
	

TOTAL ENCERTS

9








COMPTA ELS PUNTS

DATA:		
		
		
		
		
		

TOTAL ENCERTS

10

COMPTA ELS PUNTS

DATA:		
		
		
		
		
		

TOTAL ENCERTS

11

QUI VA DAVANT?

DATA:	
2	
3	
4	
5	
6	
7	
8	
9	
10	
11	

TOTAL ENCERTS

12

QUI VA DAVANT?

DATA:	
3	
7	
11	
6	
9	
2	
8	
5	
10	
4	

TOTAL ENCERTS

13

QUI VA DARRERE?

DATA:	
0	
1	
2	
3	
4	
5	
6	
7	
8	
9	

TOTAL ENCERTS

14

QUI VA DARRERE?

DATA:	
4	
7	
2	
5	
9	
1	
6	
3	
8	
0	

TOTAL ENCERTS