

ÍNDICE PÁGINA

LAS UNIDADES.....	1
LAS DECENAS.....	31
EL TIEMPO.....	60
LOS EUROS.....	67
PROBLEMAS.....	71
GEOMETRÍA.....	75
SERIES.....	79

1

¿CUÁNTOS PALOS HAY?

FECHA:	
I	
II	
III	
IIII	
IIIII	

TOTAL ACIERTOS

2

¿CUÁNTOS PALOS HAY?

FECHA:	

TOTAL ACIERTOS

3



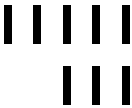


¿CUÁNTOS PALOS HAY?

FECHA:	

TOTAL ACIERTOS

4

¿CUÁNTOS PALOS HAY?


FECHA:	
	
	
	
	
	

TOTAL ACIERTOS

5

CUENTA LOS PUNTOS NEGROS

FECHA:





TOTAL ACIERTOS

6

CUENTA LOS PUNTOS NEGROS

FECHA:




TOTAL ACIERTOS

7

CUENTA LOS PUNTOS NEGROS

FECHA:




TOTAL ACIERTOS

8

CUENTA LOS PUNTOS NEGROS








FECHA:



TOTAL ACIERTOS

9








CUENTA LOS PUNTOS

FECHA:		
		
		
		
		
		

TOTAL ACIERTOS

10

CUENTA LOS PUNTOS

FECHA:		
		
		
		
		
		

TOTAL ACIERTOS

11

¿QUIÉN VA DELANTE?

FECHA:	
2	
3	
4	
5	
6	
7	
8	
9	
10	
11	

TOTAL ACIERTOS

12

¿QUIÉN VA DELANTE?

FECHA:	
3	
7	
11	
6	
9	
2	
8	
5	
10	
4	

TOTAL ACIERTOS

13

¿QUIÉN VA DETRÁS?

FECHA:	
0	
1	
2	
3	
4	
5	
6	
7	
8	
9	

TOTAL ACIERTOS

14

¿QUIÉN VA DETRÁS?

FECHA:	
4	
7	
2	
5	
9	
1	
6	
3	
8	
0	

TOTAL ACIERTOS